



# MUNICÍPIO DA ESTÂNCIA BALNEÁRIA DE PRAIA GRANDE

Estado de São Paulo  
SEDUC - Secretaria de Educação

## SEMANAS 9 e 10 SALA DE AULA




Disciplina: Matemática

3º ano do Ensino Fundamental

1- CALCULE AS MULTIPLICAÇÕES E DEPOIS LIGUE CADA CONTA AO SEU RESULTADO.

- |                    |     |
|--------------------|-----|
| A) $12 \times 2 =$ | 75  |
| B) $32 \times 3 =$ | 96  |
| C) $45 \times 4 =$ | 24  |
| D) $25 \times 3 =$ | 180 |

2- EM UMA SEMANA A SALA DE LEITURA DA ESCOLA RECEBEU 4 CAIXAS COM 5 LIVROS EM CADA CAIXA. QUANTOS LIVROS FORAM RECEBIDOS?



- (A) 15 LIVROS.
- (B) 20 LIVROS.
- (C) 22 LIVROS.
- (D) 32 LIVROS.

3- ALINE GANHOU 18 FLORES LINDAS DE SUA AVÓ NO DIA DO SEU ANIVERSÁRIO. ALINE QUER COLOCAR 6 FLORES EM CADA VASO. DE QUANTOS VASOS ALINE IRÁ PRECISAR?

- (A) 3 VASOS.
- (B) 6 VASOS.
- (C) 8 VASOS.
- (D) 10 VASOS.



4- NA BIBLIOTECA DA ESCOLA EXISTE UMA ESTANTE COM 3 PRATELEIRAS. CADA PRATELEIRA ARMAZENA 12 LIVROS. QUANTOS LIVROS HÁ NA ESTANTE?

- (A) 15 LIVROS.
- (B) 36 LIVROS.
- (C) 40 LIVROS.
- (D) 41 LIVROS.



5- ANA COMPROU ALGUNS PEIXES DE 4 ESPÉCIES DIFERENTES. 6 DELES SÃO DA ESPÉCIE AZULÃO.



AZULÃO



LARANJINHA



BICUDO



PALHAÇO

A) A QUANTIDADE DE PEIXES DA ESPÉCIE LARANJINHA É O DOBRO DA QUANTIDADE DO AZULÃO. QUANTOS PEIXES LARANJINHAS ANA TEM?

B) ANA TEM 3 AQUÁRIOS COM 8 PEIXES PALHAÇO. QUANTOS PEIXES PALHAÇO ANA TEM AGORA?

C) A ESPÉCIE QUE ANA MAIS GOSTA É O PEIXE BICUDO. ELE CUSTA 7 REAIS CADA UM. ANA PRETENDE COMPRAR MAIS 8 DESSA ESPÉCIE. QUANTOS REAIS ANA IRÁ GASTAR PARA COMPRÁ-LOS?

6- JOÃO, TIAGO, LUCAS E MARINA COLECIONAM FIGURINHAS.



JOÃO TEM 12 FIGURINHAS.

TIAGO TEM O DOBRO DE FIGURINHAS DE JOÃO.

LUCAS TEM O TRIPLO DE FIGURINHAS DE TIAGO.

MARINA TEM A METADE DE FIGURINHAS DE TIAGO.

A) QUANTAS FIGURINHAS TEM JOÃO? \_\_\_\_\_

B) QUANTAS FIGURINHAS TEM TIAGO? \_\_\_\_\_

C) QUANTAS FIGURINHAS TEM LUCAS? \_\_\_\_\_

D) MARINA TEM \_\_\_\_ FIGURINHAS.

E) MARINA COLOU 8 FIGURINHAS EM CADA PÁGINA DO SEU ÁLBUM. SEU ÁLBUM TEM 24 PÁGINAS. QUANTAS FIGURINHAS MARINA COLOU AO TODO EM SEU ÁLBUM? \_\_\_\_\_

7- O PROFESSOR JAIRO DE EDUCAÇÃO FÍSICA ORGANIZOU AS TURMAS DOS 3º ANOS "A" E "B" EM DUAS FILAS PARA REALIZAR ATIVIDADES DE COMPETIÇÃO. CADA FILA TINHA 46 ALUNOS. QUANTOS ALUNOS TEM AS DUAS TURMAS NO TOTAL?




8- SANDRA FICOU GRIPADA ESSA SEMANA. O MÉDICO RECEITOU TOMAR 2 COMPRIMIDOS AO DIA DURANTE DUAS SEMANAS. AO TODO QUANTOS COMPRIMIDOS SANDRA TOMARÁ ATÉ COMPLETAR O TRATAMENTO?



9- CAMILA CAMINHA TODOS OS DIAS O TOTAL DE 20 MINUTOS NO SEU PERCURSO PARA IR E VOLTAR DA ESCOLA. QUANTOS MINUTOS CAMILA CAMINHA DURANTE A SEMANA PARA IR À ESCOLA?

10- VEJA A BARRA DE CHOCOLATE QUE CAROLINA COMPROU NO MERCADO.



SABENDO QUE A BARRA TEM NO TOTAL 15 QUADRADINHOS. QUANTAS **FILEIRAS** ESTÃO ESCONDIDAS DENTRO DA EMBALAGEM?

11- UM ÔNIBUS ESCOLAR TRANSPORTA 16 CRIANÇAS DIARIAMENTE. CONSIDERANDO QUE O ÔNIBUS FAZ UMA PARADA PARA CADA CRIANÇA SUBIR E DESCER DO ÔNIBUS. QUANTAS PARADAS ÔNIBUS FAZ POR DIA?

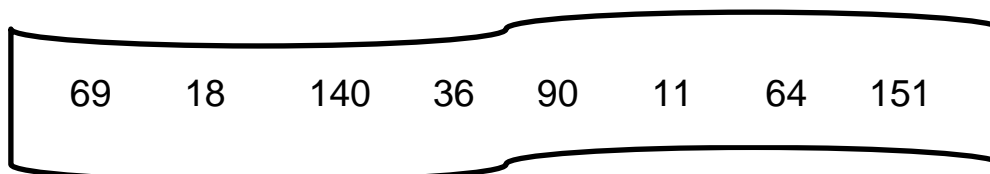


**SEMANAS 9 e 10**  
**PONTE DO SABER**



**3º ano do Ensino Fundamental**

1- OBSERVE OS NÚMEROS DENTRO DA FAIXA E RESPONDA:



A) É MAIOR QUE 6 DEZENAS E NÃO É ÍMPAR.

B) É O DOBRO DE 7 DEZENAS.

C) É O SUCESSOR DE 3 DEZENAS E MEIA.

D) É O MAIOR NUMERAL DE 3 ORDENS.

E) É O MENOR NUMERAL ÍMPAR DE 2 ORDENS.

F) É A METADE DE 36.

G) É O TRIPLO DE 23.

H) É O RESULTADO DE  $45 \times 2$ .

2- EM UM GALINHEIRO HÁ 3 NINHOS COM 6 OVOS EM CADA UM E UMA GALINHA CHOCANDO CADA NINHO. ENTRE OVOS E GALINHAS QUANTOS SÃO?

